



Считаем цыплят

► Составь примеры по картинкам и реши их.




$1 + 2 = 3$

	1
+	2
<hr/>	
	3




$\square + \square = \square$

	<input type="text"/>
+	<input type="text"/>
<hr/>	
	<input type="text"/>



$\square + \square = \square$

	<input type="text"/>
+	<input type="text"/>
<hr/>	
	<input type="text"/>




$\square + \square = \square$

	<input type="text"/>
+	<input type="text"/>
<hr/>	
	<input type="text"/>

Считаем вместе с курами

▶ Сложи цифры.



$$\begin{array}{r} 1 \\ + 2 \\ \hline \square \end{array}$$

$$\begin{array}{r} 2 \\ + 2 \\ \hline \square \end{array}$$

$$\begin{array}{r} 1 \\ + 4 \\ \hline \square \end{array}$$

$$\begin{array}{r} 0 \\ + 3 \\ \hline \square \end{array}$$

$$\begin{array}{r} 3 \\ + 2 \\ \hline \square \end{array}$$

$$\begin{array}{r} 3 \\ + 1 \\ \hline \square \end{array}$$

$$\begin{array}{r} 1 \\ + 1 \\ \hline \square \end{array}$$

$$\begin{array}{r} 4 \\ + 0 \\ \hline \square \end{array}$$

$$\begin{array}{r} 1 \\ + 2 \\ \hline \square \end{array}$$

$$\begin{array}{r} 2 \\ + 2 \\ \hline \square \end{array}$$

$$\begin{array}{r} 1 \\ + 3 \\ \hline \square \end{array}$$

$$\begin{array}{r} 2 \\ + 0 \\ \hline \square \end{array}$$

$$\begin{array}{r} 4 \\ + 1 \\ \hline \square \end{array}$$

$$\begin{array}{r} 2 \\ + 3 \\ \hline \square \end{array}$$

$$\begin{array}{r} 2 \\ + 1 \\ \hline \square \end{array}$$

Считаем яйца

► Составь примеры по картинкам и реши их.



$$\underline{3} + \underline{2} = \underline{5}$$


$$\square + \square = \square$$
$$\square + \square = \square$$
$$\square + \square = \square$$
$$\square + \square = \square$$
$$\square + \square = \square$$
$$\square + \square = \square$$