

УДК 656.1  
ББК 39.808  
Г87

Все права защищены. Книга или любая ее часть не может быть скопирована, воспроизведена в электронной или механической форме, в виде фотокопии, записи в память ЭВМ, репродукции или каким-либо иным способом, а также использована в любой информационной системе без получения разрешения от издателя. Копирование, воспроизведение и иное использование книги или ее части без согласия издателя является незаконным и влечет уголовную, административную и гражданскую ответственность.

**Громаковский, Алексей Алексеевич.**  
Г87 Билеты для экзамена в ГИБДД категории С и D с комментариями : (со всеми последними изменениями на 2016 год) / А. Громаковский. — Москва : Эксмо, 2016. — 240 с. : ил. — (Правила Дорожного Движения).

В книге содержится официальный текст экзаменационных билетов для сдачи на права категорий С и D. Кроме вопросов и ответов к ним, пособие дополнено подробными комментариями. Книга может быть использована не только для контроля знаний, но и для обучения. Рисунки в билетах выполнены в современной 3D-графике, благодаря чему дорожные ситуации выглядят максимально реалистично.

**УДК 656.1  
ББК 39.808**

Учебное издание

ПРАВИЛА ДОРОЖНОГО ДВИЖЕНИЯ

**Громаковский Алексей Алексеевич**

**БИЛЕТЫ ДЛЯ ЭКЗАМЕНА В ГИБДД КАТЕГОРИИ С И D  
С КОММЕНТАРИЯМИ  
(со всеми последними изменениями на 2016 год)**

Ответственный редактор *А. Меркурьева*  
Выпускающий редактор *Л. Ивахненко*  
Художественный редактор *Е. Задвинская*

ООО «Издательство «Эксмо»  
123308, Москва, ул. Зорге, д. 1. Тел. 8 (495) 411-68-86.  
Home page: [www.eksmo.ru](http://www.eksmo.ru) E-mail: [info@eksmo.ru](mailto:info@eksmo.ru)

Әндiрушi: «ЭКСМО» АҚБ Баспасы, 123308, Мәскеу, Ресей, Зорге көшесi, 1 үй.  
Тел. 8 (495) 411-68-86.

Home page: [www.eksmo.ru](http://www.eksmo.ru) E-mail: [info@eksmo.ru](mailto:info@eksmo.ru)

Тауар белгiсi: «Эксмо»  
Қазақстан Республикасында дистрибьютор және өнiм бойынша  
арыз-талаптарды қабылдаушының

өкiлi – РДЦ «Алматы» ЖШС, Алматы қ., Домбаровский көш., 3-а, литер Б, офис 1.  
Тел.: 8(727) 251 59 89, 90, 91, 92; факс: 8 (727) 251 59 12 вн. 107; E-mail: [RDC-Almaty@eksmo.kz](mailto:RDC-Almaty@eksmo.kz)

Өнiмнің жарамдылық мерзiмi шектелмеген.

Сертификация туралы ақпарат сайтта: [www.eksmo.ru/certification](http://www.eksmo.ru/certification)

Сведения о подтверждении соответствия издания согласно законодательству РФ о техническом регулировании можно получить по адресу: <http://eksmo.ru/certification/>

Өндiрген мемлекет: Ресей. Сертификация қарастырылмаған

Подписано в печать 29.02.2016.

Формат 60x90<sup>1/16</sup>. Печать офсетная. Усл. печ. л. 15,0.

Тираж экз. Заказ



ISBN 978-5-699-86436-2



9 785699 864362 >

ISBN 978-5-699-86436-2



ИНТЕРНЕТ-МАГАЗИН

В электронном виде вы можете купить эту книгу на [www.litres.ru](http://www.litres.ru)

**ЛитРес:**  
Электронная библиотека



© Громаковский А. А., текст, 2015  
© Оформление. ООО «Издательство  
«Эксмо», 2016

# Содержание

Предисловие.....	4
Билет № 1.....	5
Билет № 2.....	11
Билет № 3.....	17
Билет № 4.....	23
Билет № 5.....	29
Билет № 6.....	35
Билет № 7.....	41
Билет № 8.....	47
Билет № 9.....	53
Билет № 10.....	59
Билет № 11.....	65
Билет № 12.....	71
Билет № 13.....	77
Билет № 14.....	83
Билет № 15.....	89
Билет № 16.....	95
Билет № 17.....	101
Билет № 18.....	107
Билет № 19.....	113
Билет № 20.....	118
Билет № 21.....	124
Билет № 22.....	129
Билет № 23.....	135
Билет № 24.....	141
Билет № 25.....	147
Билет № 26.....	153
Билет № 27.....	158
Билет № 28.....	164
Билет № 29.....	170
Билет № 30.....	176
Билет № 31.....	181
Билет № 32.....	186
Билет № 33.....	192
Билет № 34.....	198
Билет № 35.....	204
Билет № 36.....	210
Билет № 37.....	216
Билет № 38.....	222
Билет № 39.....	228
Билет № 40.....	234
Правильные ответы.....	239

# Предисловие

Уважаемые читатели!

Предлагаем вашему вниманию официальный текст билетов для сдачи экзаменов в ГИБДД на право управления транспортными средствами категорий «С» и «D». Текст билетов актуален для 2016 года.

Книга включает 40 билетов, а также подробные и понятные комментарии к каждому вопросу и таблице с ответами. Комментарии содержат ссылки на следующие нормативные документы:

- «Правила дорожного движения» (далее — ПДД РФ);
- «Основные положения по допуску транспортных средств к эксплуатации и обязанности должностных лиц по обеспечению безопасности дорожного движения» (далее — Основные положения);
- «Перечень неисправностей и условий, при которых запрещается эксплуатация транспортных средств» (далее — Перечень);
- «Кодекс Российской Федерации об административных правонарушениях» (далее — КоАП РФ).
- Федеральный закон «О безопасности дорожного движения»

Издание позволяет подготовиться к сдаче экзамена не только комплексно (сразу по всем темам), но и по отдельным темам. Чтобы параллельно с изучением правил дорожного движения работать с билетами, ознакомьтесь, каким образом распределены темы ПДД РФ по вопросам билетов.

**Вопрос 1.** Темы «Общие положения», «Общие обязанности водителей», «Обязанности пешеходов», «Обязанности пассажиров» (разделы 1, 2, 4, 5 соответственно).

**Вопросы 2, 3 и 4.** Тема «Дорожные знаки» (Приложение 1 ПДД РФ).

**Вопрос 5.** Тема «Дорожная разметка и ее характеристики» (Приложение 2 ПДД РФ).

**Вопрос 6.** Темы «Применение специальных сигналов» и «Сигналы светофора и регулировщика» (разделы 3 и 6 соответственно).

**Вопросы 7, 8 и 9.** Темы «Применение аварийной сигнализации и знака аварийной остановки» и «Начало движения, маневрирование» (разделы 7 и 8 соответственно).

**Вопрос 10.** Темы «Расположение транспортных средств на проезжей части» и «Скорость движения» (разделы 9 и 10 соответственно).

**Вопрос 11.** Тема «Обгон, опережение, встречный разъезд» (раздел 11).

**Вопрос 12.** Тема «Остановка и стоянка» (раздел 12).

**Вопросы 13, 14 и 15.** Тема «Проезд перекрестков» (раздел 13).

**Вопрос 16.** Темы «Пешеходные переходы и места остановок маршрутных транспортных средств», «Движение через железнодорожные пути», «Движение по автомагистралям», «Движение в жилых зонах», «Приоритет маршрутных транспортных средств» (разделы 14, 15, 16, 17 и 18 соответственно).

**Вопрос 17.** Темы «Пользование внешними световыми приборами и звуковыми сигналами», «Буксировка механических транспортных средств», «Учебная езда», «Перевозка людей», «Перевозка грузов», «Дополнительные требования к движению велосипедов, мопедов, гужевых повозок, а также прогону животных» (разделы 19, 20, 21, 22, 23 и 24 соответственно).

**Вопросы 18, 19 и 20.** Темы «Основные положения по допуску транспортных средств к эксплуатации и обязанности должностных лиц по обеспечению безопасности дорожного движения», «Основы безопасности дорожного движения», «Оказание первой медицинской помощи», «Ответственность водителя».

Желаем вам успешной сдачи экзамена!

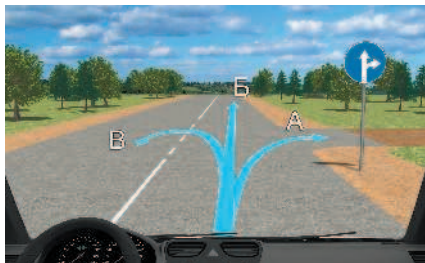
# Билет № 1

## Вопрос 1

**Какие транспортные средства по Правилам относятся к маршрутным транспортным средствам?**

**1.** Все автобусы. **2.** Автобусы, троллейбусы и трамваи, предназначенные для перевозки людей и движущиеся по установленному маршруту с обозначенными местами остановок. **3.** Любые транспортные средства, перевозящие пассажиров.

## Вопрос 2



**В каких направлениях вам разрешено продолжить движение?**

1. Только Б.
2. Только А или Б.
3. В любых.

## Вопрос 3



**Этот дорожный знак указывает:**

1. Расстояние до конца тоннеля.
2. Расстояние до места аварийной остановки.
3. Направление движения к аварийному выходу и расстояние до него.

## Вопрос 4



**Каким транспортным средствам запрещена стоянка в обозначенной знаком зоне в выходные и праздничные дни?**

1. Только грузовым автомобилям с разрешенной максимальной массой более 3,5 т.
2. Всем грузовым автомобилям.
3. Всем транспортным средствам.

## Вопрос 5



**Эта разметка, нанесенная на полосу движения:**

1. Предоставляет вам преимущество при перестроении на правую полосу.
2. Информировывает вас о том, что дорога поворачивает направо.
3. Предупреждает вас о приближении к сужению проезжей части.

### Вопрос 6

**Что означает мигание зеленого сигнала светофора?**

1. Предупреждает о неисправности светофора.
2. Разрешает движение и информирует о том, что вскоре будет включен запрещающий сигнал.
3. Запрещает дальнейшее движение.

### Вопрос 7



**Обязаны ли вы в данной ситуации подать сигнал правого поворота?**

1. Да.
2. Да, но только при наличии движущихся сзади транспортных средств.
3. Нет.


### Вопрос 8



**Кто должен уступить дорогу при одновременном перестроении?**

1. Водитель легкового автомобиля.
2. Водитель мотоцикла.

### Вопрос 9



**По какой траектории вы имеете право выполнить разворот, управляя автопоездом, имеющим большую длину?**

1. Только по А.
2. Только по Б.
3. По любой.


### Вопрос 10



**С какой скоростью вы можете продолжить движение вне населенного пункта по левой полосе на грузовом автомобиле с разрешенной максимальной массой более 3,5 т?**

1. Не более 50 км/ч.
2. Не менее 50 км/ч и не более 90 км/ч.
3. Не менее 50 км/ч и не более 70 км/ч.


### Вопрос 11



**Может ли водитель легкового автомобиля в населенном пункте выполнить опережение грузовых автомобилей по такой траектории?**

1. Да.
2. Нет.

### Вопрос 12



**Разрешено ли водителю поставить автомобиль на стоянку в указанном месте?**

1. Да.
2. Нет.

### Вопрос 13



**Вы намерены повернуть направо. Следует ли уступить дорогу автобусу?**

1. Да.
2. Нет.

### Вопрос 14



**Вы намерены проехать перекресток в прямом направлении. Ваши действия?**

1. Уступите дорогу легковому автомобилю, поскольку он первым въехал на перекресток.
2. Убедитесь, что легковой автомобиль уступает дорогу, и проедете перекресток первым.

### Вопрос 15



**Вы намерены повернуть налево. Кому следует уступить дорогу?**

1. Только автобусу.
2. Только легковому автомобилю.
3. Никому.

---

**Вопрос 16**

---



**С какой максимальной скоростью вы можете продолжить движение за знаком?**

1. 60 км/ч.
2. 50 км/ч.
3. 30 км/ч.
4. 20 км/ч.

---

**Вопрос 17**

---

**Какие внешние световые приборы вы можете использовать при движении в темное время суток на неосвещенных участках дорог?**

1. Только фары ближнего света.
2. Только фары дальнего света.
3. Фары ближнего или дальнего света.

---

**Вопрос 18**

---

**При какой неисправности разрешается эксплуатация транспортного средства?**

1. Не работают запоры горловин топливных баков.
2. Не работает механизм регулировки сиденья водителя.
3. Не работает устройство обогрева и обдува стекла.
4. Не работает стеклоподъемник.

---

**Вопрос 19**

---

**В случае когда правые колеса автомобиля наезжают на неукрепленную влажную обочину, рекомендуется:**

1. Затормозить и полностью остановиться.
2. Затормозить и плавно направить автомобиль в левую сторону.
3. Не прибегая к торможению, плавно вернуть автомобиль на проезжую часть.

---

**Вопрос 20**

---

**Когда следует проводить сердечно-легочную реанимацию пострадавшего?**

1. При потере пострадавшим сознания, независимо от наличия пульса на сонной артерии и дыхания.
2. При потере пострадавшим сознания и отсутствии пульса на сонной артерии, а также признаков дыхания.

## Ответы с комментариями

**ВОПРОС 1.** Чтобы определить, является ли транспортное средство маршрутным, следует обратить внимание на наличие определенного маршрута, по которому оно движется, а также обозначенные места остановок во время движения для посадки и высадки пассажиров, на которых транспортное средство обязано совершать остановку. Поэтому такси и автомобили, перевозящие пассажиров, маршрутными транспортными средствами не являются.

**Правильный ответ — 2**

**ВОПРОС 2.** Движение транспортного средства разрешено только по траекториям движения А и Б согласно дорожному знаку 4.1.4 «Движение прямо и направо». Дорожный знак 4.1.4 является предписывающим и разрешает движение на данном участке проезжей части только в направлениях, указанных стрелками на знаке. Разворот по траектории В запрещен, несмотря на прерывистую разметку.

**Правильный ответ — 2**

**ВОПРОС 3.** Информационные знаки 6.21.1 и 6.21.2 «Направление движения к аварийному выходу», установленные в тоннеле, указывают направление движения и расстояние до аварийного выхода (п. 6 «Информационные знаки» Приложения 1).

**Правильный ответ — 3**

---

**ВОПРОС 4.** Ставить на стоянку транспортное средство запрещается на всей территории (участке дороги), обозначенной дорожным знаком 5.27 «Зона с ограничением стоянки». При этом табличка 8.5.1 означает, что знак действует только в субботние, воскресные и праздничные дни. Согласно изображению таблички 8.4.1 «Вид транспортного средства» в нижней части знака запрет на стоянку на данной территории распространяется только на грузовые автомобили, у которых разрешенная максимальная масса превышает 3,5 т.

**Правильный ответ — 1**

---

**ВОПРОС 5.** Дорожная разметка 1.19 предупреждает вас о приближении к сужению полосы (уменьшению количества полос на проезжей части в данном направлении). При этом на полосе проезжей части наносятся две и более стрелок в направлении движения на расстоянии 15–45 м друг от друга. Находясь на данной полосе проезжей части, водителю необходимо совершить перестроение на правую полосу, не создавая помех транспортным средствам, движущимся по данной полосе.

**Правильный ответ — 3**

---

**ВОПРОС 6.** Зеленый мигающий сигнал светофора разрешает движение на перекрестке и информирует водителя о том, что вскоре будет включен желтый сигнал светофора, запрещающий дальнейшее движение (п. 6.2 ПДД РФ).

**Правильный ответ — 2**

---

**ВОПРОС 7.** Дорожный знак 1.11.1 «Опасный поворот» является предписывающим знаком и информирует водителя о наличии закругления дороги малого радиуса, где ограничена видимость встречного движения. Сигнал поворота водитель обязан подавать в случае начала движения, поворота либо разворота, перед перестроением и остановкой транспортного средства (п. 8.1 ПДД РФ). В данной ситуации вам не нужно подавать сигнал поворота, а следует провить внимание для безопасного проезда опасного участка дороги.

**Правильный ответ — 3**

---

**ВОПРОС 8.** В случае когда транспортные средства, движущиеся в попутном направлении, одновременно подают сигнал поворота для последующего перестроения на другую полосу проезжей части, преимущество в движении имеет транспортное средство, движущееся с правой стороны. В данном случае водитель легкового автомобиля обязан уступить дорогу и предоставить возможность для перестроения мотоциклу.

**Правильный ответ — 1**

---

**ВОПРОС 9.** ПДД РФ разрешают выполнить разворот вне перекрестка не из крайнего левого положения, а от правого края проезжей части или с обочины, когда ширины проезжей части недостаточно для осуществления маневра (п. 8.8 ПДД РФ).

**Правильный ответ — 1**

---

**ВОПРОС 10.** Дорожный знак 4.6 «Ограничение минимальной скорости» информирует водителя о том, что на данной проезжей части установлен скоростной режим 50 км/ч и более. Иначе говоря, водителю запрещается двигаться на данном участке дороги с меньшей скоростью. Стрелка под дорожным знаком (табличка 8.14) указывает на то, что скоростной режим распространяется только на крайнюю левую полосу проезжей части. Кроме того, вы движетесь вне населенного пункта по обычной дороге (не автомагистрали) на грузовом автомобиле, а значит, максимальная скорость движения не должна превышать 70 км/ч (п. 10.3 ПДД РФ).

**Правильный ответ — 3**

---

**ВОПРОС 11.** Дорожный знак 2.3.1 «Пересечение со второстепенной дорогой» информирует водителя о движении по главной дороге, приближаясь к пересечению неравнозначных дорог. Изображенная дорога имеет несколько полос для движения в одном направлении, и водитель собирается выполнить опережение грузовых автомобилей. Подобный маневр ПДД РФ не запрещен (п. 11.4 ПДД РФ).

**Правильный ответ — 1**

---

**ВОПРОС 12.** Водителю запрещается останавливать и ставить на стоянку транспортное средство ближе 5 м от края пересечения проезжих частей, на пешеходных переходах и в 5 м перед



ними, а также в местах, где между сплошной линией дорожной разметки и левым боком транспортного средства менее 3 м (пп. 12.4 и 12.5 ПДД РФ). В данном случае водителю разрешается поставить автомобиль на стоянку сразу за пешеходным переходом, не нарушая при этом ПДД РФ.

**Правильный ответ — 1**

**ВОПРОС 13.** Когда загорается зеленый сигнал (стрелка) в дополнительной секции одновременно с основным желтым или красным запрещающим сигналом, водителю разрешается начинать движение в направлении стрелки, но только предоставив преимущество в движении транспортным средствам, движущимся с других направлений. Таким образом, вам необходимо уступить дорогу автобусу, прежде чем продолжить движение (п. 13.5 ПДД РФ).

**Правильный ответ — 1**

**ВОПРОС 14.** Вы приближаетесь к перекрестку, где можете продолжить движение прямо, не уступая дорогу легковому автомобилю, собирающемуся повернуть налево. Водитель легкового автомобиля при совершении поворота налево обязан предоставить преимущество в движении транспортным средствам, движущимся со встречного направления прямо или направо (п. 13.12 ПДД РФ).

**Правильный ответ — 2**

**ВОПРОС 15.** Дорожный знак 2.1 «Главная дорога» является знаком приоритета и предоставляет преимущественное право проезда перекрестков. Табличка 8.13 «Направление главной дороги» устанавливается непосредственно с дорожным знаком 2.1 и указывает направление главной дороги на перекрестке. Водители транспортных средств, движущихся по главной дороге, должны руководствоваться правилами проезда равнозначных дорог и обязаны уступить дорогу транспортным средствам, движущимся с правой стороны (пп. 13.10 и 13.11 ПДД РФ), что в данном случае обязан сделать водитель автобуса. На перекрестке неравнозначных дорог (пересечение с главной дорогой) транспортные средства, движущиеся по второстепенной дороге, обязаны предоставить преимущество в движении транспортным средствам, движущимся по главной дороге (п. 13.9 ПДД РФ), что обязан сделать водитель легкового автомобиля. Осуществляя поворот налево на данном участке проезжей части, вы никому уступить дорогу не должны.

**Правильный ответ — 3**

**ВОПРОС 16.** Дорожный знак 5.21 «Жилая зона» является знаком особых предписаний и информирует водителя о том, что он въезжает в жилую зону, где предусматривается ограничение режима скорости до 20 км/ч (п. 10.2 ПДД РФ). В представленной ситуации вам необходимо снизить скорость до 20 км/ч после проезда дорожного знака.

**Правильный ответ — 4**

**ВОПРОС 17.** При движении по дороге в темное время суток на неосвещенных участках дорог в зависимости от дорожных условий водитель транспортного средства может использовать как фары ближнего, так и фары дальнего света (п. 19.1 ПДД РФ).

**Правильный ответ — 3**

**ВОПРОС 18.** Транспортное средство, на котором не работают запоры горловин топливных баков, механизм регулировки сиденья водителя, устройство обогрева и обдува стекла, запрещается к дальнейшей эксплуатации до момента устранения имеющихся неисправностей (п. 7.4 Перечня). Разрешается эксплуатировать транспортное средство при неработающем стеклоподъемнике.

**Правильный ответ — 4**

**ВОПРОС 19.** В случае когда правые колеса транспортного средства наезжают на неукрепленную влажную обочину, водителю необходимо плавно вернуть автомобиль на проезжую часть, не нажимая на педаль тормоза. Если прибегнуть к торможению, то возможно образование заноса, что приведет к аварийной ситуации на дороге, чего делать не рекомендуется.

**Правильный ответ — 3**

**ВОПРОС 20.** Если на сонной артерии определяется пульс, значит, пострадавший жив. В такой ситуации проведение сердечно-легочной реанимации не требуется.

**Правильный ответ — 2**

# Билет № 2

## Вопрос 1

**При движении на легковом автомобиле, оборудованном ремнями безопасности, пристегиваться ремнями должны:**

1. Только водитель.
2. Только водитель и пассажир на переднем сиденье.
3. Все лица, находящиеся в автомобиле.

## Вопрос 2



**Можете ли вы въехать на мост первым?**

1. Да.
2. Нет.

## Вопрос 3



**Разрешено ли вам продолжить движение в прямом направлении на грузовом автомобиле с разрешенной максимальной массой более 3,5 т?**

1. Разрешено.
2. Запрещено.
3. Разрешено, если вы обслуживаете предприятие, расположенное в обозначенной знаком зоне.

## Вопрос 4



**Что запрещено в зоне действия этого знака?**

1. Движение со скоростью более 20 км/ч.
2. Движение только механических транспортных средств.
3. Движение любых транспортных средств.

## Вопрос 5



**Разрешен ли вам обгон, если реверсивные светофоры отключены?**

1. Разрешен.
2. Разрешен, если скорость автобуса менее 30 км/ч.
3. Не разрешен.

### Вопрос 6



**В каких направлениях вам разрешено продолжить движение?**

1. Только налево.
2. Прямо и налево.
3. Налево и в обратном направлении.

### Вопрос 7



**Поднятая вверх рука водителя легкового автомобиля является сигналом, информирующим вас:**

1. О его намерении повернуть направо.
2. О его намерении продолжить движение прямо.
3. О его намерении снизить скорость, чтобы остановиться и уступить дорогу мотоциклисту.

### Вопрос 8

**Двигаясь по левой полосе, вы намерены перестроиться на правую. На каком из рисунков показана ситуация, в которой вы обязаны уступить дорогу?**

1. На левом.
2. На правом.
3. На обоих.



### Вопрос 9



**Разрешен ли вам разворот в указанном месте?**

1. Разрешен только при отсутствии приближающегося поезда.
2. Разрешен.
3. Запрещен.

### Вопрос 10

**В каких случаях вы можете наезжать на прерывистые линии разметки, разделяющие проезжую часть на полосы движения?**

1. Только при перестроении.
2. Только при движении в темное время суток.
3. Только если на дороге нет других транспортных средств.
4. Во всех перечисленных случаях.

---

**Вопрос 11**


---



**Разрешено ли вам обогнать мотоциклиста?**

1. Разрешено.
2. Запрещено.

---

**Вопрос 12**


---



**Кто из водителей неправильно поставил свое транспортное средство на стоянку?**

1. Оба водителя.
2. Только водитель грузового автомобиля.

---

**Вопрос 13**


---



**Вы намерены повернуть налево. Кому следует уступить дорогу?**

1. Только пешеходам.
2. Только автобусу.
3. Автобусу и пешеходам.
4. Никому.

---

**Вопрос 14**


---



**Вы намерены повернуть налево. Ваши действия?**

1. Проедете перекресток первым.
2. Уступите дорогу автомобилю.

---

**Вопрос 15**


---



**Обязан ли мотоциклист уступить вам дорогу в данной ситуации?**

1. Да.
2. Нет.

**Вопрос 16****В данной ситуации вы:**

1. Должны уступить дорогу автобусу, начинающему движение от обозначенного места остановки.
2. Имеете преимущество, так как водитель автобуса начинает движение с выездом на вторую полосу.

**Вопрос 17****В каких из перечисленных случаев запрещена буксировка на гибкой сцепке?**

1. Только на горных дорогах.
2. Только в гололедицу.
3. Только в темное время суток и в условиях недостаточной видимости.
4. Во всех перечисленных случаях.

**Вопрос 18****При каком значении суммарного люфта в рулевом управлении допускается эксплуатация автобуса?**

1. Не более 10 градусов.
2. Не более 20 градусов.
3. Не более 25 градусов.

**Вопрос 19****Что подразумевается под остановочным путем?**

1. Расстояние, пройденное транспортным средством с момента обнаружения водителем опасности до полной остановки.
2. Расстояние, пройденное транспортным средством с момента начала срабатывания тормозного привода до полной остановки.
3. Расстояние, соответствующее тормозному пути, определенному технической характеристикой данного транспортного средства.

**Вопрос 20****Что подразумевается под временем реакции водителя?**

1. Время с момента обнаружения водителем опасности до полной остановки транспортного средства.
2. Время с момента обнаружения водителем опасности до начала принятия мер по ее избежанию.
3. Время, необходимое для переноса ноги с педали подачи топлива на педаль тормоза.

**Ответы с комментариями**

**ВОПРОС 1.** Перед началом движения на транспортном средстве водитель и все пассажиры, находящиеся в салоне, должны быть пристегнуты ремнями безопасности (пп. 2.1.2 и 5.1 ПДД РФ).

**Правильный ответ — 3**

**ВОПРОС 2.** Дорожный знак 2.7 «Преимущество перед встречным движением» является знаком приоритета и устанавливается в местах, где встречный разъезд транспортных средств опасен или невозможен (узкие участки дороги, мостовые сооружения, тоннели). В данной ситуации вам предоставляется преимущественное право проезда мостового сооружения (белая стрелка на знаке) перед встречным транспортным средством.

**Правильный ответ — 1**

**ВОПРОС 3.** Дорожный знак 3.4 «Движение грузовых автомобилей запрещено» запрещает движение грузовых автомобилей и составов транспортных средств с разрешенной максимальной массой более 3,5 т. Исключение составляют транспортные средства организаций

федеральной почтовой связи, имеющие на боковой поверхности белую диагональную полосу на синем фоне.

**Правильный ответ — 2**

**ВОПРОС 4.** Дорожный знак 5.33 «Пешеходная зона» является знаком особых предписаний и информирует водителей о том, что дальнейшее движение после данного знака разрешено только пешеходам. Всем механическим транспортным средствам въезд на территорию, где установлен этот дорожный знак, запрещается.

**Правильный ответ — 3**

**ВОПРОС 5.** Реверсивные светофоры регулируют движение по полосе проезжей части, на которой направление движения транспортных средств может меняться на противоположное. Если сигналы реверсивного светофора отключены, то движение по данной полосе проезжей части запрещается (п. 6.7 ПДД РФ). Исходя из этого, обгон впереди идущего транспортного средства вам не разрешен, даже если оно движется со скоростью менее 30 км/ч.

**Правильный ответ — 3**

**ВОПРОС 6.** Дорожный знак 5.15.1 «Направление движения по полосам» в соответствии с дорожной разметкой 1.18 регламентирует направления, по которым разрешается движение по полосе проезжей части. Зеленый сигнал светофора в дополнительной секции, включенный одновременно с запрещающим красным сигналом, указывает направление движения, в котором разрешается продолжить движение на перекрестке. Вы можете продолжить движение только налево. Выполнить разворот для движения в обратном направлении из крайней правой полосы вам запрещается (п. 8.5 ПДД РФ).

**Правильный ответ — 1**

**ВОПРОС 7.** Дорожный знак 2.4 «Уступите дорогу» информирует водителя о том, что он обязан предоставить преимущество в движении транспортным средствам, движущимся по пересекаемой проезжей части. В случае осуществления маневра либо торможения водитель обязан подать сигнал световым указателем поворота, а в случае их отсутствия — рукой. Сигнал торможения подается поднятой вверх рукой (п. 8.1 ПДД РФ). В представленной ситуации поднятая вверх рука водителя впереди идущего транспортного средства свидетельствует о том, что он собирается снизить скорость, чтобы остановиться и уступить дорогу мотоциклисту.

**Правильный ответ — 3**

**ВОПРОС 8.** Осуществляя перестроение на крайнюю правую полосу движения, вы должны уступить дорогу транспортным средствам, движущимся по правой полосе, даже в том случае, если водитель транспортного средства, движущегося справа, подал сигнал поворота для последующего перестроения на левую полосу движения (п. 8.4 ПДД РФ).

**Правильный ответ — 3**

**ВОПРОС 9.** Дорожные знаки 1.2 «Железнодорожный переезд без шлагбаума» и 1.4.1 «Приближение к железнодорожному переезду» являются предупреждающими и информируют водителя о том, что он приближается к железнодорожному переезду, где отсутствует шлагбаум. Разворот на железнодорожном переезде запрещается (п. 8.11 ПДД РФ). В данной ситуации вы намереваетесь совершить маневр до начала железнодорожного переезда, что ПДД РФ не запрещается.

**Правильный ответ — 2**

**ВОПРОС 10.** В случае когда проезжая часть разделена прерывистыми линиями дорожной разметки, разделяющими полосы движения транспортных средств, водители должны передвигаться только по обозначенным полосам. Пересекать прерывистую линию дорожной разметки разрешается только при перестроении на другую полосу (п. 9.7 ПДД РФ).

**Правильный ответ — 1**

**ВОПРОС 11.** Данная проезжая часть представляет собой нерегулируемый перекресток равнозначных дорог, на котором водители обязаны уступить дорогу транспортным средствам, движущимся с правой стороны (п. 13.11 ПДД РФ). В указанной ситуации обгон мотоцикла запрещается, так как вы обязаны предоставить преимущество в движении автомобилю, движущемуся справа по пересекаемой проезжей части (п. 11.4 ПДД РФ).

**Правильный ответ — 2**

**ВОПРОС 12.** Оба водителя нарушили ПДД РФ, так как грузовым автомобилям стоянка на тротуаре запрещена независимо от их разрешенной максимальной массы, а легковой автомобиль можно поставить на стоянку указанным образом только при наличии знака 6.4 «Место стоянки» и одной из табличек 8.6.2, 8.6.3, 8.6.6–8.6.9 «Способ постановки транспортного средства на стоянку».

**Правильный ответ — 1**

**ВОПРОС 13.** Представленный в иллюстрации перекресток является регулируемым (движение транспортных средств и пешеходов регулируется сигналами светофора), что обязывает вас уступить дорогу транспортному средству, движущемуся по встречному направлению прямо (п. 13.4 ПДД РФ). При этом дорожный знак 2.1 «Главная дорога» совместно с табличкой 8.13 «Направление главной дороги» предоставляет вам преимущественное право проезда перекрестка, где вы, осуществляя маневр, обязаны уступить дорогу пешеходам, пересекающим проезжую часть (п. 13.1 ПДД РФ). В случае когда сигналы светофора противоречат требованиям дорожных знаков приоритета, водители транспортных средств обязаны руководствоваться сигналами светофора (п. 6.15 ПДД РФ). Именно поэтому вы должны уступить дорогу не только пешеходам, но и автобусу.

**Правильный ответ — 3**

**ВОПРОС 14.** Проезжая часть представляет собой нерегулируемый перекресток равнозначных дорог, на котором водители руководствуются правилом «помеха справа». Вы можете проехать перекресток первым, так как водитель грузового автомобиля должен уступить дорогу транспортным средствам, движущимся с правой стороны (п. 13.11 ПДД РФ).

**Правильный ответ — 1**

**ВОПРОС 15.** Дорожный знак 5.1 «Автомагистраль» является знаком особых предписаний и обозначает дорогу, где действуют требования правил, регламентирующих порядок движения по автомагистралям. Автомагистраль является главной дорогой по отношению к проезжим частям, которые примыкают к ней, образуя при этом перекрестки неравнозначных дорог. В представленной ситуации мотоциклист обязан уступить вам дорогу (п. 13.9 ПДД РФ).

**Правильный ответ — 1**

**ВОПРОС 16.** В населенном пункте водители обязаны уступать дорогу маршрутным транспортным средствам, начинающим движение от обозначенного места остановки и подающим сигнал поворота (п. 18.3 ПДД РФ). В представленной ситуации движение автобуса по правой полосе проезжей части затронуто впередистоящим автомобилем с включенной аварийной световой сигнализацией. В этом случае вы должны предоставить преимущество в движении маршрутному транспортному средству.

**Правильный ответ — 1**

**ВОПРОС 17.** Буксировка транспортных средств запрещается на гибкой сцепке только в гололедицу (п. 20.4 ПДД РФ). Подобные погодные условия повышают риск образования заноса при торможении или трогании, а следовательно, создания аварийной ситуации на дороге.

**Правильный ответ — 2**

**ВОПРОС 18.** Эксплуатация автобуса допускается при суммарном люфте в рулевом управлении не более 20 градусов (п. 2.1 Перечня).

**Правильный ответ — 2**

**ВОПРОС 19.** Расстояние, которое проходит транспортное средство с момента обнаружения водителем опасности до полной остановки, именуется остановочным путем. Расстояние, пройденное транспортным средством с момента срабатывания тормозного привода до полной остановки, именуется тормозным путем. Эти понятия не являются идентичными и различаются временем реакции водителя с момента обнаружения опасности до нажатия на педаль тормоза.

**Правильный ответ — 1**

**ВОПРОС 20.** Временем реакции водителя считается промежуток времени с момента обнаружения опасности до начала принятия необходимых мер по ее избеганию. Это время зависит от опыта водителя, его состояния и сложности дорожной ситуации.

**Правильный ответ — 2**