





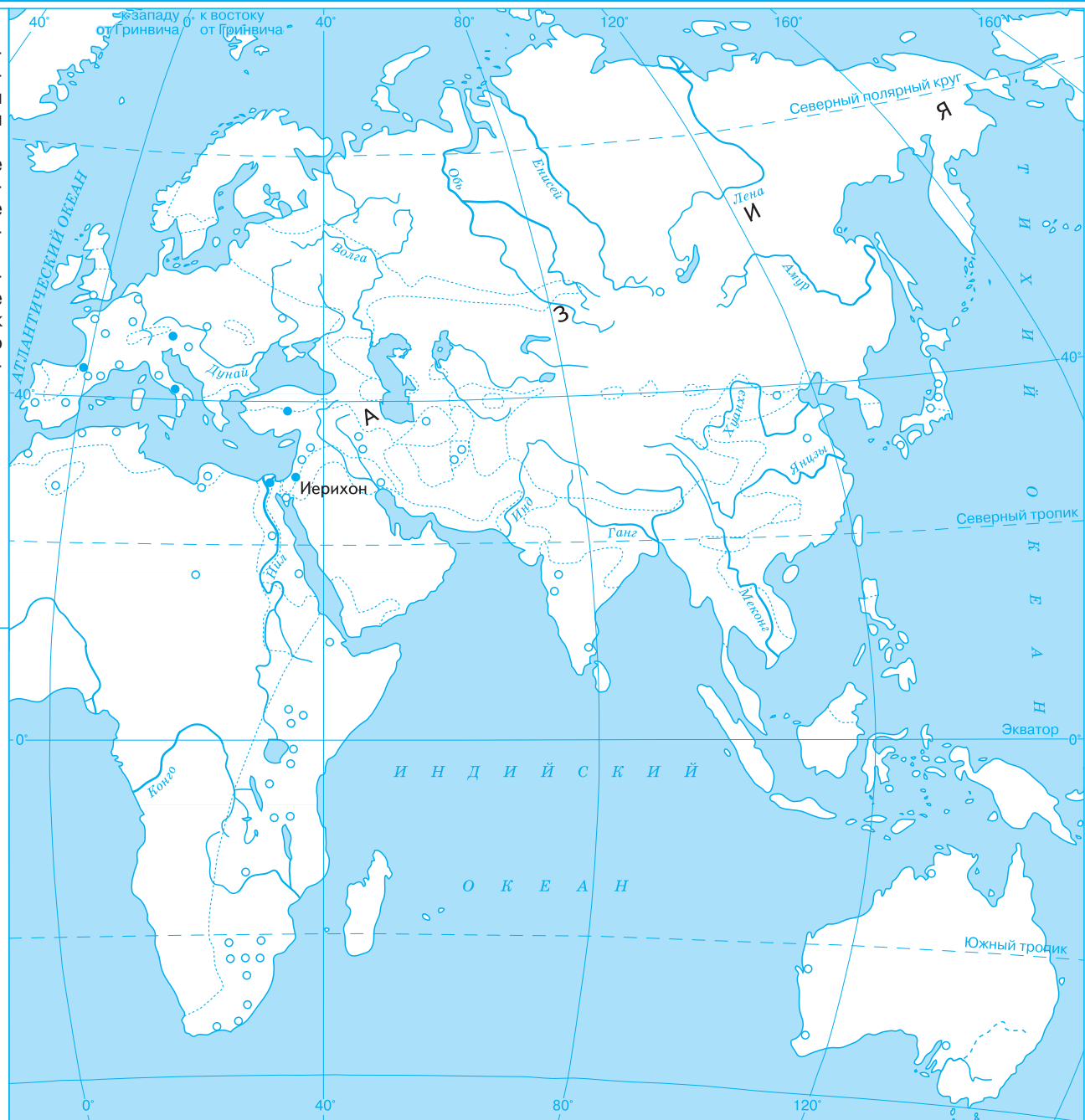


**Задания**

1. Подпишите названия континентов. Выделите территорию предполагаемой прародины человека и отметьте на карте стрелками пути расселения древних людей.
2. Отметьте на карте древнейшие районы земледелия и скотоводства и объясните, почему древние люди выбрали именно эти территории для их развития.
3. Обозначьте места начала обработки кости, металлов, а также начало использования глины. Как по-вашему, почему это произошло именно в отмеченных вами регионах?

**УСЛОВНЫЕ ОБОЗНАЧЕНИЯ**

-  Территория предполагаемой прародины человека
- Древнейшие районы земледелия и скотоводства
  -  10—8 тыс. лет назад
  -  8—5 тыс. лет назад
  -  5—4 тыс. лет назад
-  Пути расселения древних людей
-  Стоянки первобытных людей
- Культурные достижения на пути к цивилизации
  - К** Начало обработки кости
  - Г** Начало использования глины
  - М** Начало обработки металлов



## ДРЕВНИЙ ЕГИПЕТ. 3500—332 гг. до н. э.

Масштаб 1:9 000 000

